

ČASOVNE ENOTE- PREVERJANJE ZNANJA

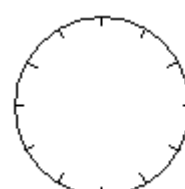
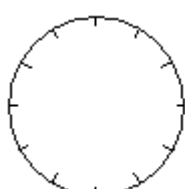
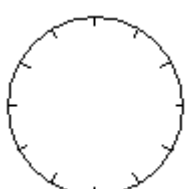
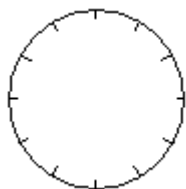
1. Koliko je ura?



2. Pretvori kot v zgledu.

15.33	22.15		14.28		17.55	
3.33		4.10		7.45		11.36

3. Vriši kazalce.

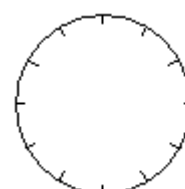
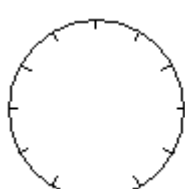
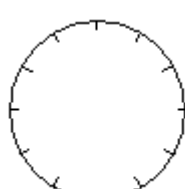
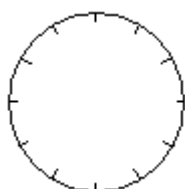


7.00

3.15

8.30

10.45



16.47

13.55

23.10

19.22

4. Pretvori.

5 h = _____ min

2 dni = _____ h

9 tednov = _____ dni

7 h = _____ min

8 dni = _____ h

5 tednov = _____ dni

5 h 34 min = _____ min

300 min = _____ h _____ min

6 h 24 min = _____ min

500 min = _____ h _____ min

1 teden = _____ min

1 dan = _____ min

77 dni = _____ tednov

273 dni = _____ tednov

5. Reši besedilne naloge.

Miha je bil naročen pri šolskemu zobozdravniku ob 11.30. Iz njegove ordinacije je odšel ob 12.30.



Koliko časa je bil pri zobozdravniku?

Živa je odšla k plesnemu krožku ob 12. uri. Tam je bila eno uro.



Ob kateri uri je odšla domov?

Janez je poklical mamo po telefonu ob 10h. Slušalko je odložil ob 10.30.



Koliko časa se je pogovarjal z mamo?

Matevž in sošolci so se ob 9h odpeljali na izlet. Vožnja je trajala eno uro in pol.



Kdaj so prispeli na cilj?

