

Datum: _____

Ime in priimek: _____

KOLIKO ZNAM?

1. Izračunaj.

$7 \cdot 5 = \underline{\quad}$

$6 \cdot 8 = \underline{\quad}$

$9 \cdot 1 = \underline{\quad}$

$3 \cdot 6 = \underline{\quad}$

$40 : 10 = \underline{\quad}$


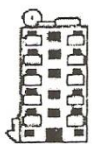



$15 : 5 = \underline{\quad}$

$64 : 8 = \underline{\quad}$

$12 : 6 = \underline{\quad}$

____/8

2. Preglednica prikazuje, koliko so visoke nekatere stavbe v mestu.

				
hiša	stolpnica	grad	šola	cerkev
9 m	65 m	32 m	21 m	28 m

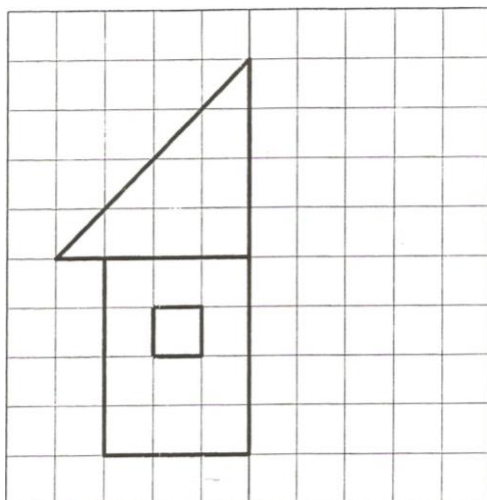
Uredi stavbe po višini. Začni z zapisom najnižje stavbe na prvo črto.

____/3

Katera od imenovanih stavb je nižja kot grad in višja kot šola? _____.

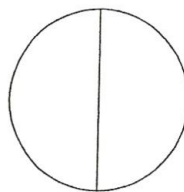
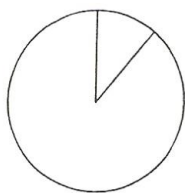
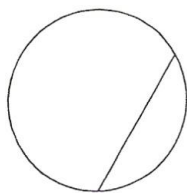
3. Dopolni risbo tako, da bo simetrična.

____/2




4.

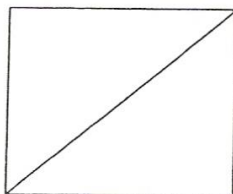
a) Pobarvaj krog, ki je razdeljen na polovici.



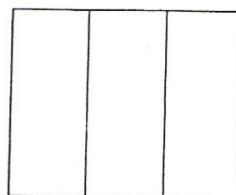
b) Pobarvaj ustrezen del pravokotnika.



četrtno



polovico




tretjino

c) Kaj je manj: polovica ali četrtna pravokotnika? _____.

___/5

5. Po jezeru je plavalo 5 odraslih rac. Ob vsaki raci je plavalo 6 mladih račk. Koliko mladih račk je plavalo v jezeru?

Napiši račun:



Odgovor: _____.

___/3

6. Izračunaj.

a) $28 - 4 =$ _____

e) $36 - 16 =$ _____

b) $91 + 7 =$ _____

f) $58 + 29 =$ _____

c) $49 + 3 =$ _____

g) $60 - 51 =$ _____

d) $84 - 6 =$ _____

h) $13 + 49 =$ _____

___/8

7. Izračunaj.

a) $24 : \square = 8$

c) $17 + \square = 28$

b) $\square \cdot 6 = 54$

d) $50 - \square = 36$

___/4

8. Pravilno dopolni povedi. Izbiraj med merskimi enotami:

kilogram, centimeter, meter, ura in leto.



Jaz sem lev. Živim v živalskem vrtu.

Star sem 5 _____.

Moj rep je dolg 80 _____.

Vsak dan pojem 3 _____ mesa.

Sem velik zaspanec. Na dan spim 20 _____.

___/4

9. Otroci so streljali na gol. Benjamin je dal 6 golov, Aleks pa dvakrat toliko kakor Benjamin. Jan je dosegel dva gola več kakor Benjamin. Koliko golov so dali vsi trije skupaj?


Napiši potrebne račune:



Odgovor: _____

___/7

10. V 3. a razredu so otroci izbirali priljubljene vrste športa. Stolpci prikazujejo, kateri šport imajo najraje. Vsak otrok je izbral eno vrsto športa.



Odgovori na vprašanja:

- Kateri šport je izbralo največ otrok? _____.
- Kateri šport je izbralo najmanj otrok? _____.
- Koliko več otrok je izbralo nogomet kakor rolanje? _____.
- Katera dva športa je izbralo enako število otrok?
_____.
- Koliko otrok najraje plava? _____.
- Koliko otrok je v 3. a razredu? _____.

___/6

SKUPAJ TOČK: ___/50